


### 問題①

選手Aは、どのようにDFをかわしてシュートした？

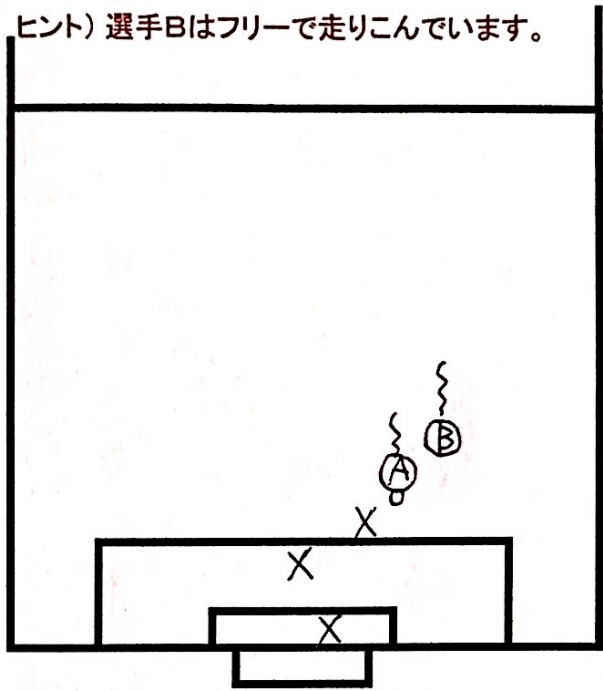
ヒント) DFは全力で追いかけているので、簡単には止まりません。



### 問題②

選手Aは、どのように選手Bを生かした？

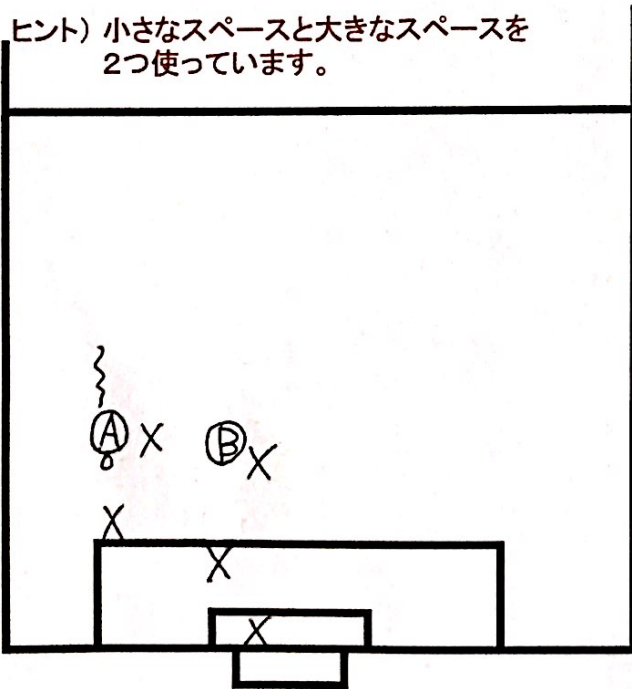
ヒント) 選手Bはフリーで走りこんでいます。



### 問題③

選手Aと選手Bは、どんなコンビネーションで突破した？

ヒント) 小さなスペースと大きなスペースを2つ使っています。



### 問題④

選手Bの動き出しの意味と、その後どんなプレーをした？

ヒント) どこにスペースができますか？

